

CIK GADU LATVIJAI, EIROPAS SAVIENĪBAI UN TEV?



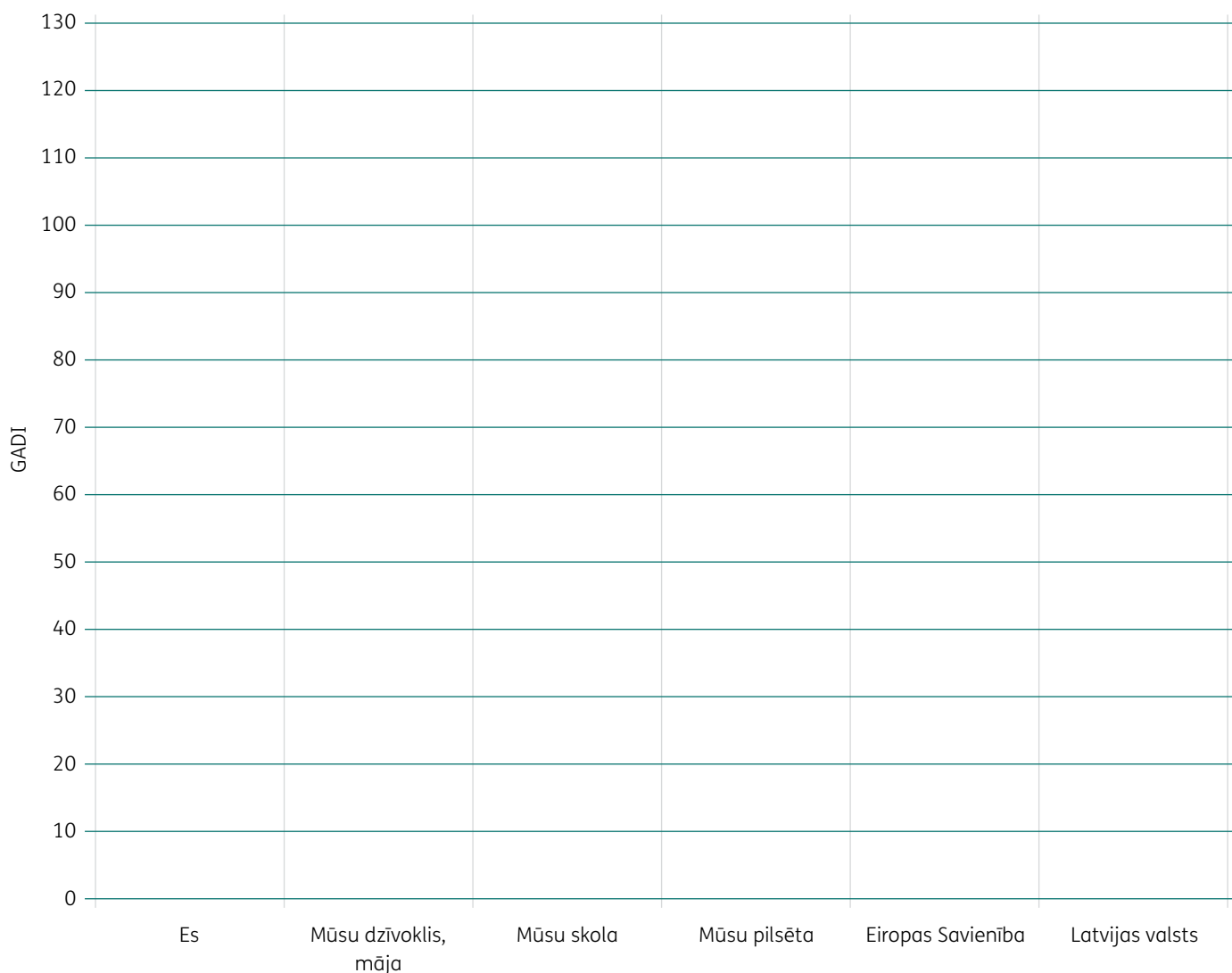
1. pielikums

Veido mežu!

1. Noskaidro un uzraksti, cik gadu!

Man	Mūsu dzīvoklim, mājai	Mūsu skolai	Mūsu pilsētai	Eiropas Savienībai	Latvijas valstij
---------------------	---	---------------------------------	-----------------------------------	--	--------------------------------------

2. Apskati diagrammas asis. Vertikālā ass atspoguļo gadus – 10 gadi ir 10 mm. Horizontālajā asī ir atzīmēta koka vieta. Atzīmē katra koka garumu! Zīmē kokus! Ja kādam kokam vietas nepietiek, izmanto papildu lapu.



3. Ko no iegūtās diagrammas vari secināt?

CIK GADU LATVIJAI, EIROPAS SAVIENĪBAI UN TEV?

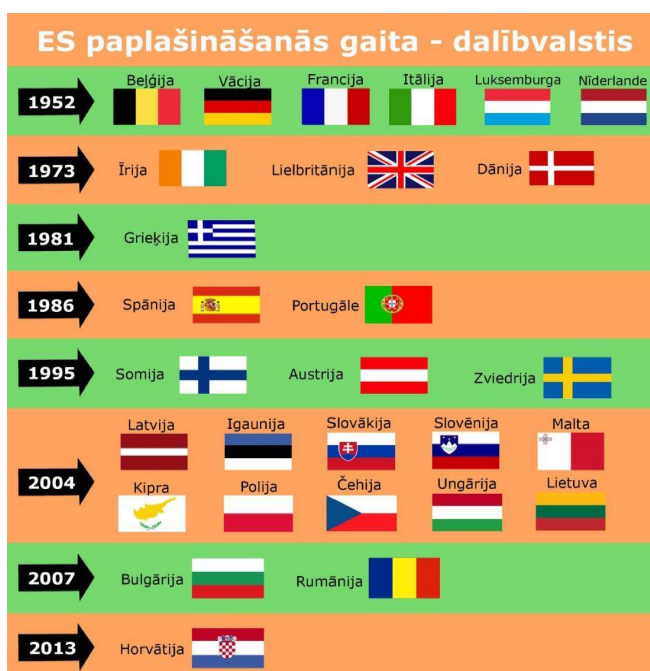
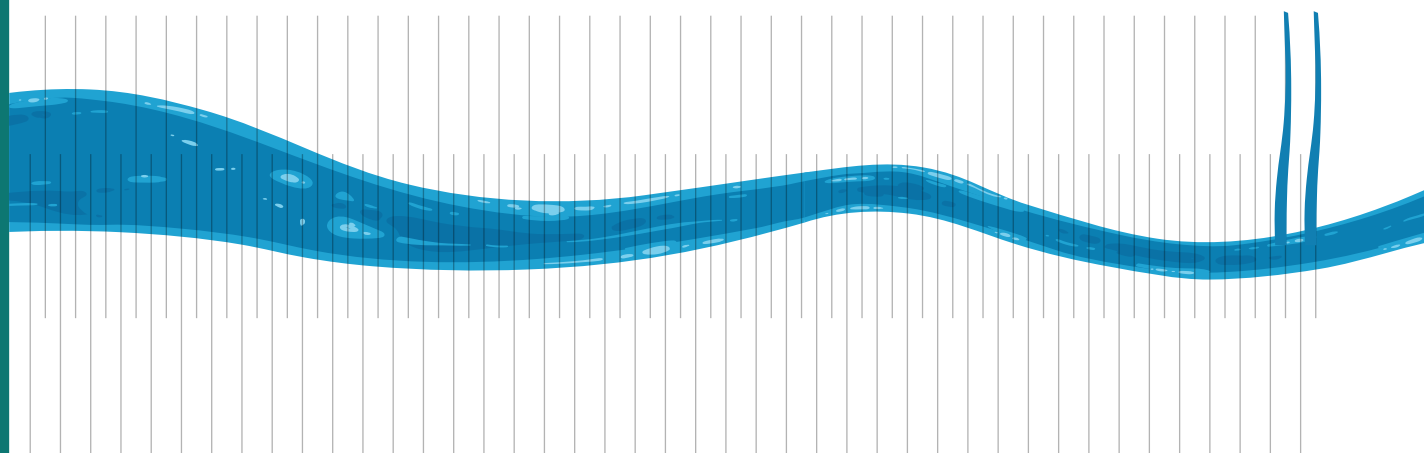
2. pielikums



Eiropas Savienības paplašināšanās

Ja salīdzinām Eiropas Savienību ar upi, tad katra dalībvalsts ir kā upes pieteka. Izveido upes pieteku karti! Pieteka ieplūst upē tajā gadā, kad valsts pievienojas Eiropas Savienībai. Pieraksti gadskaitļus! Ja vienā gadā pievienojās vairākas valstis, atzīmē katru no tām! Upē ir dotas norādes – 1 gads ir 2 mm.

1952. gads – Beļģija
1950. gada 9. maijs –
Roberts Šūmanis nāk klajā ar
ideju par sadarbību, nevis
karu Eiropā



2020. gadā Lielbritānija izstājās no Eiropas Savienības.